

Муниципальный этап Всероссийской олимпиады школьников  
по географии  
2023–2024 гг.  
8 класс

Бланк ответов

Тестовый тур




1	2	3	4	5	6	7	8	9	10
11	12	13	14	15	16	17	18	19	20

Теоретический тур

Задание 1

Название реки А			
Номера дополнительных характеристик			
Название реки Б			
Номера дополнительных характеристик			
Название реки В			
Номера дополнительных характеристик			
Название реки Г			
Номера дополнительных характеристик			

## Задание 2

Текст А	Вопрос по тексту	Ответ
	В тексте описан подтип климата побережья, характеризующийся резкой сменой условий летом и зимой и летним пиком осадков. Назовите подтип климата.	
	Уссурийский край назван так по протекающей там реке Уссури. Притоком какой более крупной реки она является?	
	<p>Каким из топографических знаков на картах обозначают <b>фруктовые сады</b>?</p> <div style="display: flex; justify-content: space-around; align-items: flex-end;"> <div style="text-align: center;">  <p>а)</p> </div> <div style="text-align: center;">  <p>б)</p> </div> <div style="text-align: center;">  <p>в)</p> </div> </div>	

Текст Б	Вопрос по тексту	Ответ
	Какое метеорологическое явление описано в тексте?	
	<p>В повседневной жизни, а порой и в новостных сводках путают понятия «туман» и «смог». Соотнесите данные термины с определениями, указанными ниже. Одно из определений лишнее.</p> <ol style="list-style-type: none"> <li>1) Концентрированное загрязнение приземных слоев атмосферы в крупных городах.</li> <li>2) Тонкий слой льда на земной поверхности, образовавшийся после оттепели или дождя в результате похолодания, а также</li> </ol>	<p>Туман – Смог –</p>

	<p>вследствие замерзания мокрого снега, капель дождя или мороси от соприкосновения с сильно охлажденной поверхностью.</p> <p>3) Скопление мелких водяных капель или кристаллов в приземном слое атмосферы, понижающее горизонтальную видимость воздуха до 1 км.</p>	
--	---	--

Текст В	Вопрос по тексту	Ответ
	Назовите явление, скрытое в тексте под <b>словом А</b> .	
	Назовите самый нижний слой атмосферы Земли.	

Текст Г	Вопрос по тексту	Ответ
	<p>Какие еще опасные природные явления, кроме лавин, могут встречаться в горах Кавказа? Выберите из списка.</p> <p>Сели, цунами, тайфуны, оползни, тропический карст</p>	
	М. Ю. Лермонтов много путешествовал по Кавказу. Назовите вулкан — самую высокую точку горной системы (по совместительству самую высокую точку России).	
	К какой области складчатости относятся Кавказские горы?	

### Задание 3

По 1 баллу за каждый правильно расставленный плюс, за каждый лишний плюс **вычитать 0,5 балла**

Название заповедника	Средняя температура июля ниже 20°C	Перепад высот не более 1000 м	Близость к побережью моря	Многолетняя мерзлота	Тундровая растительность (без учета высотной поясности)
Путоранский					
Усть-Ленский					
Кроноцкий					
Астраханский					
Саяно-Шушенский					

#### *Дополнительные вопросы:*

Какой заповедник выберет классный руководитель 8 класса? \_\_\_\_\_

Как называется крупная аккумулятивная форма, созданная деятельностью постоянных водотоков, в пределах которой расположен заповедник? \_\_\_\_\_

**Задание 4**

В бланке ответов к каждому описанию укажите полное название субъекта РФ, который посетили друзья, и ответьте на дополнительные вопросы.

1) Субъект РФ: \_\_\_\_\_

**Дополнительные вопросы:**

1.1) Напишите день и время (по времени пункта прибытия), когда самолет Анны и Артема приземлился в субъекте 1.

\_\_\_\_\_

1.2) Назовите реку, дельту которой друзья посетили в субъекте 1.

\_\_\_\_\_

1.3) Назовите сооружение, которое Анна и Артем посетили в столице субъекта 1.

\_\_\_\_\_

2) Субъект РФ: \_\_\_\_\_

**Дополнительные вопросы:**

2.1) Напишите день и время (по времени пункта прибытия), когда самолет Анны и Артема приземлился в субъекте 2.

\_\_\_\_\_

2.2) Назовите полуостров-косу, который ребята посетят в субъекте 2.

\_\_\_\_\_

2.3) Назовите государство, которому принадлежит северная часть косы.

\_\_\_\_\_

3) Субъект РФ: \_\_\_\_\_

**Дополнительные вопросы:**

3.1) Напишите день и время (по времени пункта прибытия), когда самолет Анны и Артема приземлился в субъекте 3.

\_\_\_\_\_

- 3.2) Назовите путешественника, в честь которого назван аэропорт в субъекте 3, море и пролив.

---

4) Субъект РФ: \_\_\_\_\_

**Дополнительные вопросы:**

- 4.1) Напишите день и время (по времени пункта прибытия), когда самолет Анны и Артема приземлился в субъекте 4.

---

- 4.2) Назовите единственную реку, которая вытекает из Байкала.

---

Карта для изображения маршрута в задании 4

